

खरिदार/नासु प्रथम पत्र – लोकसेवा साथी

लोकसेवा नमुना प्रश्नपत्र - २

Key – B

समय: ४५ मिनेट

पत्र: प्रथम

पूर्णाङ्क: १००

विषय: सामान्य ज्ञान तथा आधारभूत कार्यालय सिप परीक्षण

वस्तुगत बहुबैकल्पिक प्रश्न(५० प्रश्न × २ अंक)

उत्तरपुस्तिका प्रश्नपत्रको Key अनिवार्य उल्लेख गर्नुपर्नेछ । Key उल्लेख नगरेमा उत्तरपुस्तिका रद्द हुनेछ । परिक्षामा Mobile, Calculator लगायतका विद्युतीय उपकरणहरु प्रयोग गर्न पाइने छैन ।

१. खेतीपातीको लागि सर्वोकृष्ट मानिने माटो कस्तो प्रकारको माटो हो?

(A) पागोमाटो

(B) रातो फुसो माटो

(C) बलौटे पत्थारलियो माटो

(D) तलैया माटो

२. पृथ्वीनारायण शाहसँग छाता र जुता माग्ने राजा को हुन?

(A) जयप्रकाश मल्ल

(B) जयस्थिति मल्ल

(C) रत्न मल्ल

(D) अंशुबर्मा

३. जोडा मिलाई कोडबाट सही उत्तर छान्नुहोस् ।

क) हलो आकारको जिल्ला

१) रामेछाप

ख) ऐग बास्केट

२) इलाम

ग) चियाको लागि प्रख्यात

३) झापा

घ) सतासीधाम

४) चितवन

(A) क-४, ख-३, ग-२, घ-१

(B) क-१, ख-४, ग-२, घ-३

(C) क-१, ख-२, ग-३, घ-४

(D) क-१, ख-४, ग-३, घ-२

खरिदार/नासु प्रथम पत्र – लोकसेवा साथी

४. विश्वमा सर्वप्रथम व्यक्तिको बारेमा तलका कुन भनाइ गलत छ ?

- (A) चीन गणतन्त्रको प्रथम राष्ट्रपति = डा. सन यात्सेन
(B) पृथ्वी गोलो छ भनी घोषणा गर्ने व्यक्ति = पाइथागोरस
(C) विश्व भ्रमण गर्ने व्यक्ति = म्यागलन
(D) टेष्टट्युव बेबी = ओममणि तामाङ

५. दिएको भनाइलाई विचार गर्नुहोस् ।

(क) Killer Mountain भनेर मनास्लु हिमाललाई चिनिन्छ ।

(ख) गुल्मी कफिको लागि प्रख्यात स्थान होइन ।

- (A) दुवै सही
(B) ख मात्र सही
(C) क मात्र सही
(D) दुवै गलत

६. जी. एम. टी.(GMT) को पूरा रूप के हो?

- (A) Greenwich Mean Time
(B) Greek Main Tower
(C) German Morning Tea
(D) Greenwich Main Time

७. विश्व वातावरण दिवस कहिले मनाइन्छ ?

- (A) August 5
(B) June 5
(C) July 5
(D) December 5

८. दिइएको भनाइलाई विचार गर्नुहोस्

क) कोशि प्रदेश सबैभन्दा धेरै स्थानीय तह भएको प्रदेश हो ।

ख) गाउँपालिका भन्दा नगरपालिका धेरै भएको प्रदेश मधेश प्रदेश हो।

- (A) क ठीक ख बेठीक
(B) ख ठीक क बेठीक
(C) दुबै ठीक
(D) दुबै बेठीक

खरिदार/नासु प्रथम पत्र – लोकसेवा साथी

९. तलका कठनहरू मध्ये गलत कठन पत्ता लगाउनुहोस्

- (A) नेपालका राष्ट्रपिता भनेर राजा त्रिभुवनलाई चिनिन्छ ।
(B) हालसम्म पनि जिवित मानिने राजा योगनरेन्द्र मल्ल हुन ।
(C) नेपालका राष्ट्र निर्माता भनेर राजा महेन्द्र शाहलाई चिनिन्छ ।
(D) योगनरेन्द्र मल्लको मृत्यु हुदा ३१ जना रानीहरू सति गएका थिए।

१०. नेपालको इतिहासमा संकटका पञ्च भनेर कसलाई चिनिन्छ ?

- (A) सूर्य बहादुर थापा
(B) पुष्पलाल जोशी
(C) टंकप्रसाद आचार्य
(D) गिरिजाप्रसाद कोइराला

११. वि.स. २००७ फागुन ७ गते मोहन शमशेर जबराको प्रधानमन्त्रीमा गठित मन्त्रीमण्डल अनुसार शिक्षा मन्त्रीको जिम्मेवार कसलाई प्रदान गरिएको थियो ?

- (A) वि. पि. कोइराला
(B) भरतमणि शर्मा
(C) नृपजंग राणा
(D) बबर शमशेर जबरा

१२. बुद्धसँग सम्बन्धित तलका जोडा बारे विचार गर्नुहोस् ।

- क) लुम्बिनी – बुद्धको जन्मस्थल
ख) बोधगया – बुद्धत्व प्राप्त गरेको स्थान
ग) कुशीनगर – बुद्धले प्रथम उपदेश दिएको स्थान
घ) सारनाथ – बुद्धले देहत्याग गरेको स्थान

माथिका कुन कुन जोडा सहि छन् ?

- (A) क मात्र सही
(B) सबै सही
(C) क र ख सही ग र घ गलत
(D) क, ख र ग सही घ गलत

खरिदार/नासु प्रथम पत्र – लोकसेवा साथी

१३. तलको कुन जोडा सही छैन ?

- (A) ल्याक्टोमिटर → दुधको शुद्धता नाप्ने यन्त्र
(B) व्यारोमिटर → ग्याँसको दबाव नाप्ने यन्त्र
(C) फेदोमिटर → समुन्द्रको गहिराइ नाप्ने यन्त्र
(D) ब्रेथलाइजर → घोलमा चिनीको मात्रा नाप्ने यन्त्र

१४. आर्थिक विकास तथा प्रशासन केन्द्र(CEDA) को स्थापनामा सहयोग गर्ने देश कुन हो ?

- (A) रूस (B) भारत (C) अमेरिका (D) चीन

१५. तलका जोडा मिलाउनुहोस् र कोडबाट सही उत्तर छान्नुहोस्:

- a.नेपाल राष्ट्र बैंक 1. वि.स. २०२४
b.राष्ट्रिय बीमा संस्थान 2. वि.स. २०१३
c. नागरिक लगानी कोष 3. वि.स. २०४७
d. रेडियो नेपाल 4. वि.स. २००७

(A) a-2, b-1, c-3, d-4

(B) a-1, b-2, c-3, d-4

(C) a-3, b-2, c-4, d-1

(D) a-4, b-3, c-2, d-1

१६. पृथ्वीको ओजोन तह विनाश गर्ने मुख्य ग्यास कुन हो?

- (A) सल्फर डाइअक्साइड (B) कार्बन डाइअक्साइड
(C) कार्बन मोनोअक्साइड (D) क्लोरोफ्लोरो कार्बन

१७. समूह I र समूह II बाट उपयुक्त जोडा मिलाउनुहोस् र कोडबाट सही उत्तर छान्नुहोस्:

समूह I

समूह II

- a. संकल्प 1. योगी नरहरिनाथ
b. इतिहास प्रकाश 2. झमक घिमिरे

खरिदार/नासु प्रथम पत्र – लोकसेवा साथी

- c. आधी आकाश 3. पारिजात
d. जेल जर्नल 4. वि.पि. कोइराला

- (A) a-2, b-4, c-1, d-3 (B) a-1, b-2, c-3, d-4
(C) a-2, b-1, c-3, d-4 (D) a-4, b-3, c-2, d-1

१८. विश्व इतिहासमा मानव अधिकारको सम्बन्धमा पहिलो लिखित दस्तावेज कुन हो?

- (A) मानव अधिकारको विश्वव्यापी घोषणा (B) म्याग्नाकार्टा
(C) फ्रान्सको संविधान (D) अमेरिकी संविधान

१९. नेपालको सबैभन्दा लामो हिमनदी कुन हो ?

- (A) लाङटाङ (B) मकालु
(C) खुम्बु (D) मनास्लु

२०. तलका भनाइ ठीक वा बेठीक के हुन ? छुट्टाउनुहोस् ।

- a. नेपालमा बनेको पहिलो बन्दुकलाई 'वीर गन' भनिन्छ ।
b. वीर गन वीरशमशेरले बनाएका हुन ।

- (A) a र b दुवै ठीक (B) a र b दुवै बेठीक
(C) a बेठीक तर b ठीक (D) a ठीक तर b बेठीक

२१. नेपाल टेलिकमले ग्राहक सेवामा सुधार गर्ने उद्देश्यले रोबोट प्रविधिको सुरुवात कहिले गरेको हो ?

- (A) २०८१ मंसिर ४ (B) २०८१ मंसिर १
(C) २०८१ मंसिर ३ (D) २०८१ मंसिर २

२२. मदन पुरस्कार २०८१ कसलाई प्रदान गरियो ?

- (A) विवेक ओझा (B) अमर न्यौपाने
(C) पारिजात (D) मोहन मैनाली

खरिदार/नासु प्रथम पत्र – लोकसेवा साथी

२३. तल दिइएको राजा र सम्बन्ध घटना बीच जोडा मिलाई सही विकल्प छान्नुहोस् ।

<u>राजा</u>	<u>घटना</u>
a)महेन्द्र मल्ल	1)हरिसिद्धिको नाच हेर्दाहेर्दै मर्ने राजा
b)सुपुष्प देव	2)मच्छिन्द्रनाथको भोटो देखाउने जात्रा चलन चलाउने राजा
c)प्रताप मल्ल	3) पशुपतिनाथको देवल बनाउने राजा
d)नरेन्द्र देव	4) प्रजा मर्दा छाक छोड्ने राजा

(A) a-3, b-4, c-2, d-1 (B) a-4, b-3, c-2, d-1
(C) a-4, b-3, c-1, d-2 (D) a-2, b-3, c-4, d-1

२४. हरेक वर्ष मंसिर १ का मनाइने कर दिवस २०८२ को नारा के थियो?

(A) स्वेच्छिक सहभागिता सहितको फराकिलो कराधार: दिगो र उत्पादनमुखी अर्थतन्त्रको आधार

(B) कर प्रणालीको सार, लगानीको आधार

(C) कर प्रणालीको सार, सुशासनको आधार

(D) स्वच्छ, पारदर्शी र प्रविधिमैत्री कर प्रशासन: सामाजिक न्याय, आर्थिक समृद्धि र सुशासन

२५. प्रेस स्वतन्त्रता सूचकाङ्क २०२५ मा नेपाल कति औं स्थानमा रहेको छ ?

(A) ८० औं

(B) ७४ औं

(C) ९० औं

(D) ७२ औं

खरिदार/नासु प्रथम पत्र – लोकसेवा साथी

२६. नेपालमा उत्पादित विद्युत् पहिलोपल्ट बङ्गलादेश कहिले निर्यात गरियो ?

(A) विसं २०८१ कात्तिक ३१

(B) विसं २०८१ कात्तिक ३०

(C) विसं २०८१ कात्तिक २९

(D) विसं २०८१ कात्तिक २७

२७. दिगो विकाससँग सम्बन्धित निम्न कठनहरू अध्ययन गरी सही विकल्प छनोट गर्नुहोस् ।

a) दिगो विकास सम्बन्धि अवधारणालाई नेपालको नवौं योजनाबाट समावेश गर्न थालिएको हो ।

b) दिगो विकासको लक्ष्य नं. ४ गुणस्तरीय शिक्षासँग सम्बन्धित छ।

(A) a मात्र ठीक

(B) b मात्र ठीक

(C) a र b दुवै ठीक

(D) a र b दुवै बेठीक

२८. मानव मुटुमा कतिवटा भ्रूण हुन्छन् ?

(A) 1

(B) 4

(C) 12

(D) 16

२९. प्योगोडा शैलीमा निर्मित नेपालको सबैभन्दा पुरानो मन्दिर कुन हो ?

(A) जानकी मन्दिर

(B) चाँगुनारायण मन्दिर

(C) दत्तात्रेय मन्दिर

(D) पशुपतिनाथ मन्दिर

३०. हाल साक्षरताको आधारमा सबैभन्दा कम साक्षरता भएको जिल्ला कुन हो ?

(A) चितवन

(B) सुर्खेत

(C) काठमाडौं

(D) रौतहट

खरिदार/नासु प्रथम पत्र – लोकसेवा साथी

३१. दिइएको श्रेणी अनुसार प्रश्नवाचक चिन्हमा तलको कुन अक्षर सही हुन्छ?

प, ब, म, र, ?

(A) म (B) य (C) र (D) व

३२. चन्द्रमाको पृथ्वी भए जस्तै पृथ्वीको के हुन्छ?

चन्द्रमा:पृथ्वी :: पृथ्वी : ?

(A) ग्रह (B) सूर्य (C) उपग्रह (D) तारा

३३. दिइएको समुहमा नमिल्ने कुन हो ?

जनवरी, मे, जुलाई, अगष्ट, नोभेम्बर

(A) जनवरी (B) मे (C) अगष्ट (D) नोभेम्बर

३४. दिपिका आफ्नो विद्यालयबाट घर तर्फ फर्कदै छिन्। उनी विद्यालयबाट २० मिटर पूर्व तर्फ सिधा अगाडि जान्छिन्। त्यसपछि १० मिटर दायाँ तिर जान्छिन्। फेरि ५ मिटर बायाँ तर्फ लागेर पुन १० मिटर बायाँ तर्फ लाग्छिन् भने अब उनी विद्यालयबाट कुन दिशामा र कति टाढा छिन्।

(A) उत्तर तर्फ २५ मिटर (B) उत्तर तर्फ १५ मिटर
(C) पूर्व तर्फ २५ मिटर (D) पूर्व तर्फ १५ मिटर

३५. राजन, जिबिता भन्दा अग्लो छ तर रमेश भन्दा होचो छ। रमेश, कुमार भन्दा अग्लो छ तर अनिश भन्दा होचो छ। सबैभन्दा अग्लो को रहेछ? पत्ता लगाउनुहोस्।

(A) अनिश (B) रमेश (C) जिबिता (D) तथ्यांक अप्रयाप्त

खरिदार/नासु प्रथम पत्र – लोकसेवा साथी

३६. दिइएको Series पूरा गर्नुहोस् ।

2, 1, 1/2, 1/4, ...

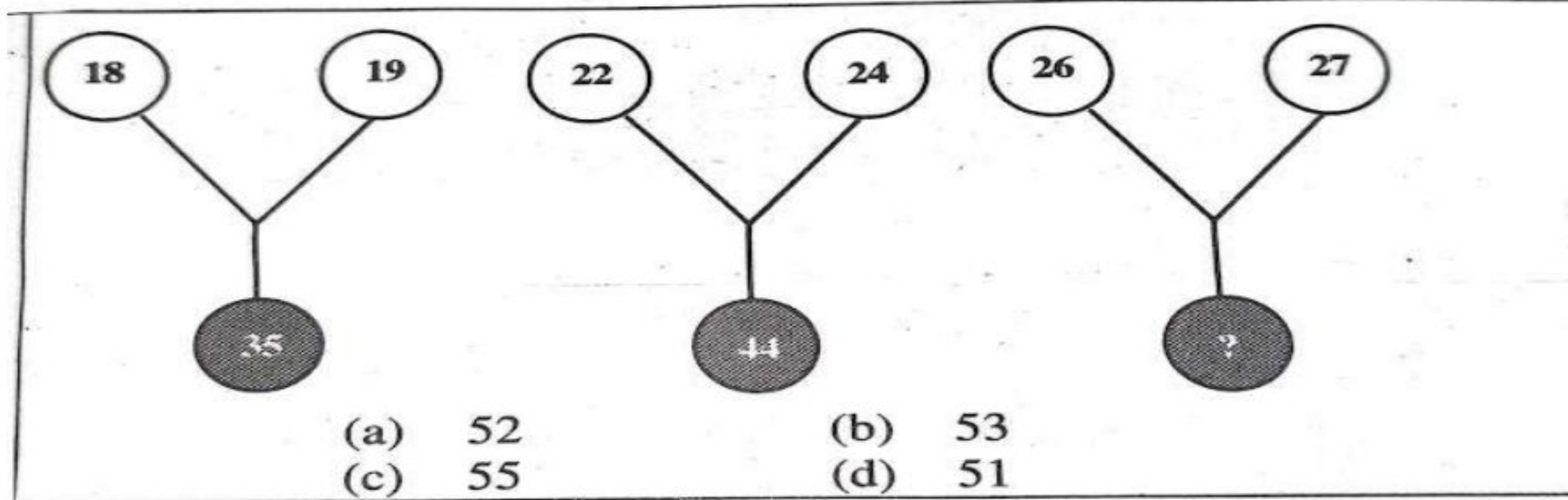
(A) 1/8

(B) 8/1

(C) 8

(D) 1/16

३७. दिइएको प्रश्नवाचक चिह्नमा के हुन्छ?



Ans: D

३८. तल दिइएको प्रश्नमा भनाइ(assertion) र कारण(Reason) प्रस्तुत गरिएको छ । तल उत्तरमा उल्लेख गरिएका विकल्प मध्ये सही विकल्प पत्ता लगाउनुहोस् ।

*भनाई(A): नेपालको तराई प्रदेशमा बढी गर्मी हुन्छ ।

*कारण(R): नेपाल भुपरिवेष्ठित मुलुक हो ।

(A) A र R दुवै सत्य हुन् र R चाहिँ A को सही व्याख्या हो ।

(B) A र R दुवै सत्य हुन् र R चाहिँ A को सही व्याख्या होइन।

(C) A चाहिँ सत्य हो तर R चाहिँ गलत हो ।

(D) A चाहिँ गलत हो तर R चाहिँ सत्य हो ।

३९. बाबू छोराभन्दा दोब्बर जेठा छन् । 16 वर्ष पहिले बाबुको उमेर छोराको उमेरको तेब्बर थियो भने हाल बाबुको उमेर कति होला?

(A) 60

(B) 64

(C) 66

(D) 70

खरिदार/नासु प्रथम पत्र – लोकसेवा साथी

४०. एउटा सामानको मूल्य रु 1680 छ । यदि राजनले कर सहित रु. 1898.40 मा सो सामान किन्यो भने राजनले कति प्रतिशत कर तिर्यो होला ?

- (A) 10 % (B) 12%
(C) 13% (D) 14.2%

४१. $\frac{2}{5}$ मा 7 जोडी कति घटाउदा $\frac{3}{10}$ होला?

- (A) $\frac{51}{10}$ (B) $\frac{66}{10}$ (C) $\frac{71}{10}$ (D) $\frac{77}{10}$

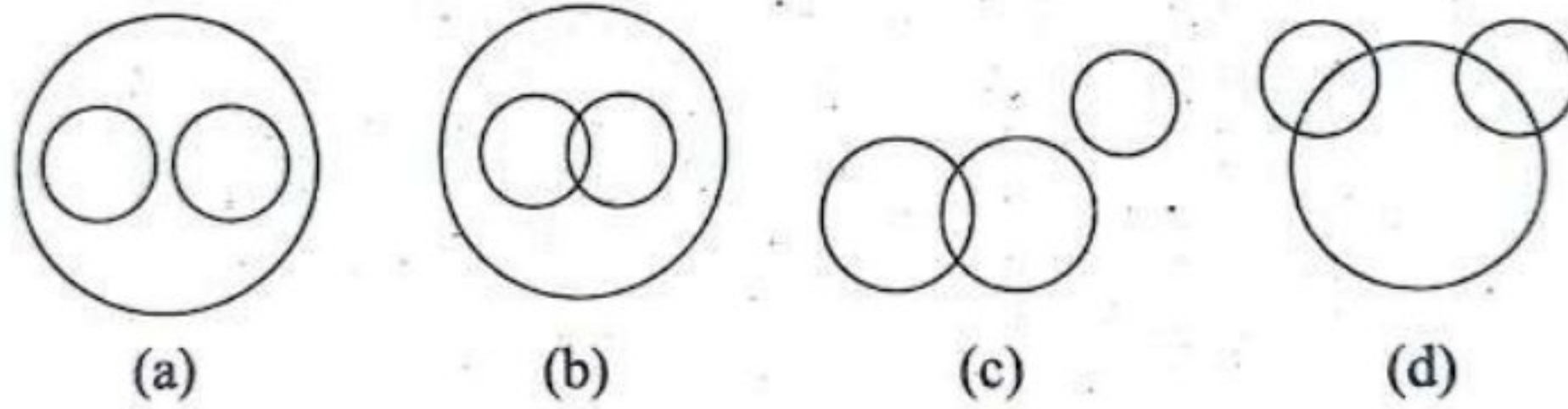
४२. एउटा कक्षामा ४० जना विद्यार्थीको औषत उमेर १५ बर्ष छ । यदि शिक्षकको उमेर पनि जोड्ने हो भने औषत उमेर १ बर्षले बढ्छ । अब, सो शिक्षकको उमेर कति होला ?

- (A) 50 (B) 52 (C) 55 (D) 56

४३. A, B र C को अनुपात क्रमशः 5 : 7 : 8 छ । यदि सो अनुपातमा क्रमशः 40%, 50% र 75% ले वृद्धि हुदा बढेको नयाँ अनुपात कति हुन्छ ?

- (A) 2:3:4 (B) 1:2:3 (C) 3:4:5 (D) 5:6:7

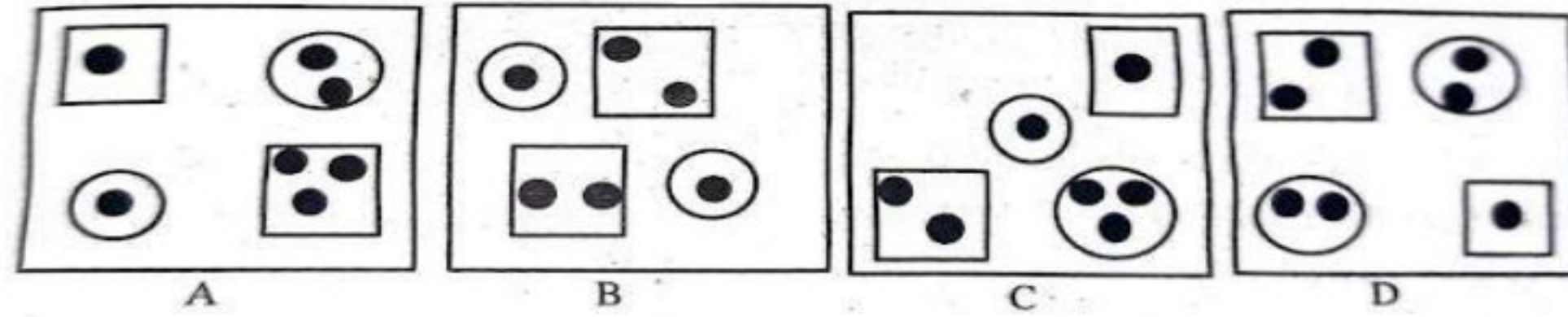
४४. दिएको चित्रमा Truck, Ships, Goods को सम्बन्ध के हुन्छ ?



Ans: D

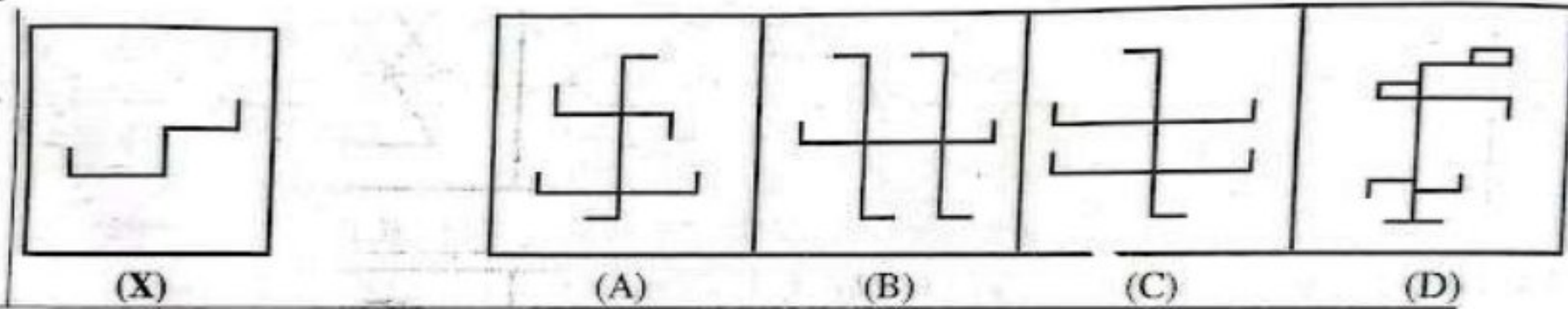
खरिदार/नासु प्रथम पत्र – लोकसेवा साथी

४५. दिएको चित्रमा अरु भन्दा फरक चित्र कुन देखिन्छ ?



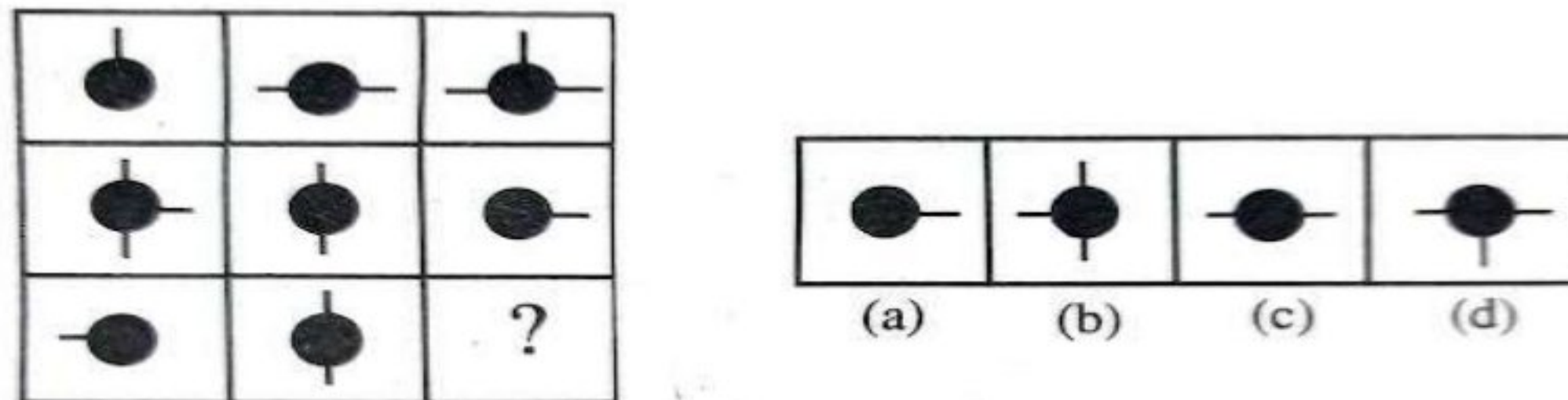
Ans: B

४६. तल दिइएको प्रश्नमा (X) को अन्तर्निहित चित्र कुन हो ?



Ans: C

४७. तलको चित्रमा ? चिह्नमा दिएको A, B, C र D मध्ये कुन सहि हुन्छ ?

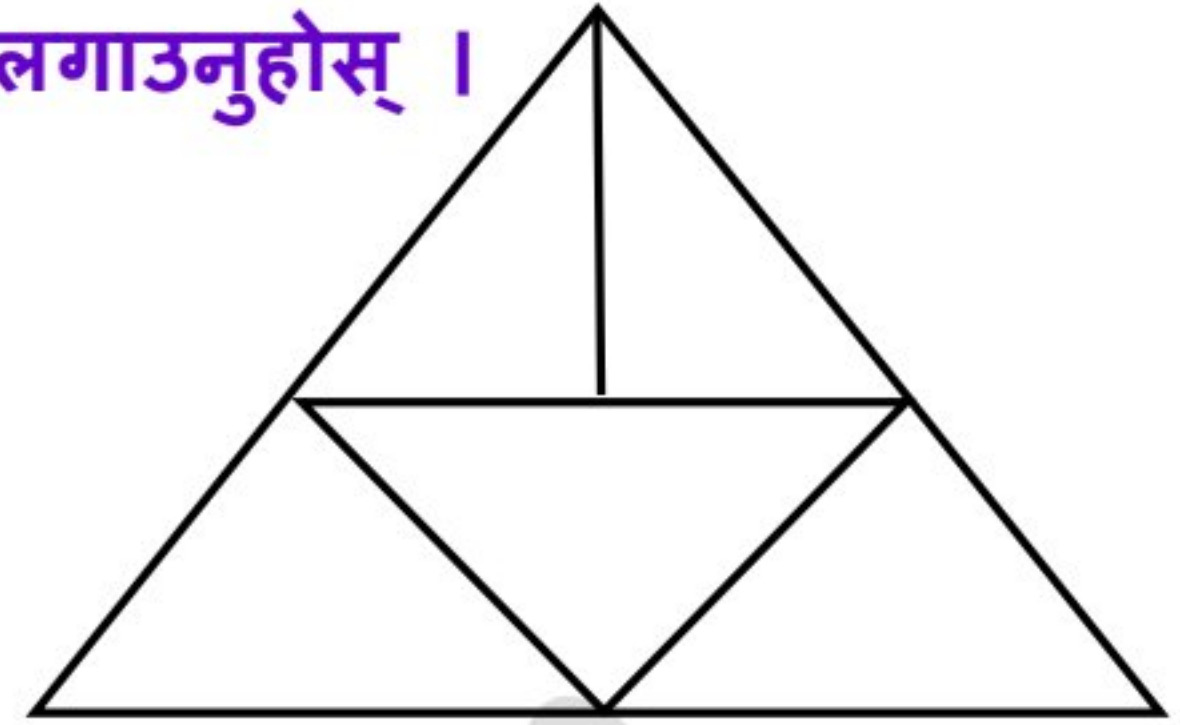


Ans: B

खरिदार/नासु प्रथम पत्र – लोकसेवा साथी

४८. दिइएको चित्रमा त्रिभुजको सङ्ख्या पत्ता लगाउनुहोस् ।

- (A) 6 (B) 7 (C) 8 (D) 9



४९. दिइएको मेट्रिक्स पूरा गर्नुहोस् ।

7	6	9
2	8	4
4	3	?
36	42	26

- (A) 0 (B) 1 (C) 2 (D) 3

५०. दिइएको समुहसँग मिल्दोजुल्दो अर्को समूह छनोट गर्नुहोस् ।

(121, 144, 169)

- (A) 25, 36, 49 (B) 100, 144, 225
(C) 1, 4, 25 (D) 9, 16, 36

Answer Key

1	2	3	4	5	6	7	8	9	10	11	12	13	14	15	16	17	18	19	20
D	A	B	D	C	A	B	C	C	A	C	C	D	C	A	D	C	B	C	D
21	22	23	24	25	26	27	28	29	30	31	32	33	34	35	36	37	38	39	40
D	D	C	B	C	B	B	B	D	D	D	B	D	C	A	A	D	B	B	C
41	42	43	44	45	46	47	48	49	50										
C	D	A	D	B	C	B	B	C	A										

-----समाप्त-----