

# खरिदार/नासु प्रथम पत्र – लोकसेवा साथी

## लोकसेवा नमुना प्रश्नपत्र - ५

### Key – A

समय: ४५ मिनेट

पत्र: प्रथम

पूर्णाङ्क: १००

विषय: सामान्य ज्ञान तथा आधारभूत कार्यालयसिप परीक्षण

वस्तुगत बहुबैकल्पिक प्रश्न(५० प्रश्न × २ अंक)

उत्तरपुस्तिका प्रश्नपत्रको Key अनिवार्य उल्लेख गर्नुपर्नेछ । Key उल्लेख नगरेमा उत्तरपुस्तिका रद्द हुनेछ । परिक्षामा Mobile, Calculator लगायतका विद्युतीय उपकरणहरु प्रयोग गर्न पाइने छैन ।

१. सौर्यमण्डलमा तलका मध्ये कुन ग्रहलाई *Terrestrial Planet* पनि भनिन्छ?

(A) मङ्गल (B) बृहस्पति (C) शनि (D) अरुण

२. काल्पनिक शून्य डिग्री देशान्तर रेखालाई के भनिन्छ?

(A) अन्तर्राष्ट्रिय तिथि रेखा (B) मध्य देशान्तर रेखा  
(C) प्रधान देशान्तर रेखा (D) प्रधान मध्यान्ह रेखा

३. भट्नाजोकुल हिमनदी (Vatnajokull Glacier) कुन महादेशमा पर्दछ?

(A) एशिया (B) उत्तर अमेरिका  
(C) युरोप (D) अष्ट्रेलिया

४. नेपालको तराई क्षेत्र समुद्री सतहबाट कति मिटर उचाइसम्म रहेको छ?

(A) 200 (B) 400  
(C) 600 (D) 800

## खरिदार/नासु प्रथम पत्र – लोकसेवा साथी

५. तलका कथनहरू अध्ययन गरी सही विकल्प छान्नुहोस्।

a) दरौँदी नदीको उद्गमस्थल गणेश हिमाल हो।

b) तलैया माटो खेतीपातीका लागि सर्वोत्तम मानिन्छ।

(A) a र b दुवै ठीक

(B) a ठीक तर b बेठीक

(C) a बेठीक तर b ठीक

(D) a र b दुवै बेठीक

६. तलका मध्ये नेपालमा रहेको कुन ताललाई “कपिल ताल” पनि भनिन्छ?

(A) बीसहजारी

(B) बुलबुले

(C) घोडाघोडी

(D) झिलमिला

७. नेपालमा सुरुवात राजा हुने सही क्रम कुन हो?

(A) द्रव्य शाह, छत्र शाह, राम शाह, पृथ्वीपति शाह

(B) द्रव्य शाह, पृथ्वीपति शाह, राम शाह, छत्र शाह

(C) द्रव्य शाह, राम शाह, छत्र शाह, पृथ्वीपति शाह

(D) द्रव्य शाह, छत्र शाह, पृथ्वीपति शाह, राम शाह

८. निम्न कथनहरू अध्ययन गरी सही विकल्प रोज्नुहोस्।

अ) अंशुवर्माले चार थरिका टक चलाएका थिए।

आ) नरेन्द्रदेवले भद्राधिवास दरबार निर्माण गराएका थिए।

इ) शिलालेखमा “स्वस्ती नेपालभ्य” लेखाउने बसन्तदेव थिए।

ई) मानदेव शिवदेव प्रथमका ज्वाइँ थिए।

(A) अ र ई मात्र ठीक

(B) आ मात्र ठीक

(C) ई मात्र बेठीक

(D) इ र ई मात्र बेठीक

# खरिदार/नासु प्रथम पत्र – लोकसेवा साथी

९. निम्नमध्ये कुन कथन ठीक हो/हुन्?

i) औद्योगिक क्रान्तिको सुरुआत बेलायतबाट भएको थियो।

ii) अक्टोबर क्रान्ति सन् 1919 मा भएको थियो।

iii) अक्टोबर क्रान्तिले रुसमा जार शासनको अन्त्य गर्‍यो।

(A) i र ii मात्र

(B) i, ii र iii सबै

(C) i र iii मात्र

(D) i मात्र

१०. समुह I र समुह II बीच जोडा मिलाई सही विकल्प छान्नुहोस्।

समुह I	समुह II
घण्टाघर	देव शम्शेर
सैनिक अस्पताल	जुद्ध शम्शेर
विराटनगर जुट मिल	चन्द्र शम्शेर
गोरखापत्र प्रकाशन	वीर शम्शेर

(A) a-4, b-3, c-2, d-1

(B) a-4, b-2, c-3, d-1

(C) a-1, b-2, c-4, d-3

(D) a-3, b-1, c-4, d-2

११. वास्तविक सूचनालाई अर्को ठाउँमा उतार गर्दा हुबहु उतार गर्नुपर्नेमा उतार गर्दा पाइएको सूचनामा केही त्रुटीहरू हुन गएको छ। सूचनाहरूको अध्ययन गरी त्रुटीहरू पत्ता लगाउनुहोस्।

## वास्तविक सूचना

सूचना ! सूचना !! सूचना !!!

यस Water Supply Tank को मर्मत गर्नुपर्ने हुँदा Water Supply Tank NAGARJUN-10, Kathmandu दश दिनलाई बन्द गरिएको छ।

# खरिदार/नासु प्रथम पत्र – लोकसेवा साथी

## उतार गर्दा पाईएको सूचना

सूचना ! सूचना !! सूचना !!!!

यस Water Suply Tank को मर्मत गर्नुपर्ने हुदा Water Supply tank NAGARJUNA-10, Kathmadu दस दीनलाई बन्द गरिएका छ ।

(A) पहिलो हरफमा 2, दोस्रो हरफमा 5, तेस्रो हरफमा 4

(B) पहिलो हरफमा 1, दोस्रो हरफमा 5, तेस्रो हरफमा 3

(C) पहिलो हरफमा 3, दोस्रो हरफमा 8, तेस्रो हरफमा 5

(D) पहिलो हरफमा 4, दोस्रो हरफमा 8, तेस्रो हरफमा 5

१२. दिइएको वाक्यमा विद्यालयको नाम के हो?

वाक्य: गणेश माध्यमिक विद्यालयको स्थापना 2030 सालमा भएको थियो ।

(A) गणेश

(B) गणेश मा.वि.

(C) गणेश मध्यामिक विद्यालय

(D) गणेश माध्यमिक विद्यालय

१३. दिइएको अनुक्रम (Series) लाई पूरा गर्न प्रश्नचिन्ह (?) भएको ठाउँमा कुन विकल्प उपयुक्त हुन्छ?

6, 13, 28, 59, ?

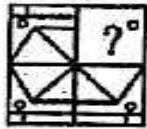
(A) 111

(B) 122

(C) 126

(D) 128

१४. चित्र (X) मा प्रश्नचिन्ह (?) भएको स्थानमा कुन चित्र उपयुक्त हुन्छ?



(X)



(A)



(B)



(C)

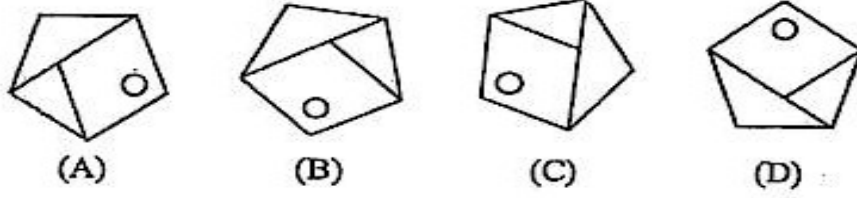


(D)

Ans: B

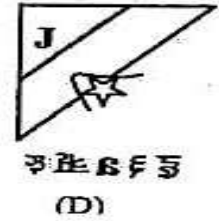
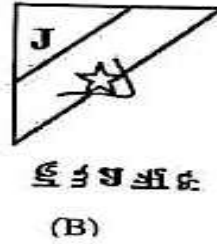
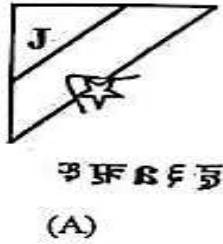
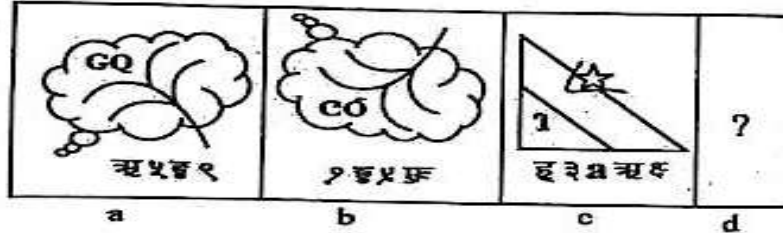
# खरिदार/नासु प्रथम पत्र – लोकसेवा साथी

१५. कुन चित्र अरूभन्दा फरक छ?



Ans: B

१६. चित्र a र b बीचको सम्बन्ध अनुसार d मा कुन चित्र आउँछ?



Ans:A

१७. दिइएका मितिहरूलाई सुरु मितिदेखि क्रम मिलाउनुहोस्।

1. असार 5, 2019

2. पुष 20, 2018

3. कार्तिक 15, 2017

4. पुष 12, 2018

5. असोज 4, 2019

(A) 1-5-3-2-4

(B) 3-4-2-1-5

(C) 3-2-4-1-5

(D) 5-1-3-4-2

# खरिदार/नासु प्रथम पत्र – लोकसेवा साथी

१८. कुनै एउटा कार्यालयमा दरखास्त दिने उम्मेदवारहरुको विवरण निम्न तालिका अनुसार रहेको छ।

क्र.सं.	नाम	जन्म मिति	शैक्षिक योग्यता
१	Srijana Sing	2053/12/14	स्नातकोत्तर
२	Sirjana Shrestha	2053/2/12	स्नातक
३	Srijana Sharma	2054/1/5	आचार्य
४	Shreejana Shilpakar	2053/6/6	स्नातक

नामहरुलाई वर्णानुक्रम फाइलिङ्ग अनुसार मिलाउँदा सही क्रम कुन हो?

- (A) 1,2,3,4 (B) 3,2,1,4  
(C) 3,2,4,1 (D) 4,2,3,1

१९. 14 र 49 बीच जस्तै सम्बन्ध भएको जोडी कुन हो?

- (A) 52 – 182 (B) 50 – 125  
(C) 18 – 27 (D) 12 – 30

२०. तलका शब्दहरूमध्ये कुन शब्द फरक छ?

- (A) Verify (B) Confirm  
(C) Authenticate (D) Ask

२१. निम्न भनाइहरु अध्ययन गर्नुहोस् र सही विकल्प छान्नुहोस्।

i) नेपाल सरकार र नेकपा (माओवादी) बीच विस्तृत शान्ति सम्झौतामा हस्ताक्षर 2063 साल मंसिर 5 गते भएको हो।

ii) कालापानी, लिपुलेकसहितको नेपालको चुच्चे नक्शा 2077 साल जेठ 5 गते जारी भएको हो।

- (A) i र ii दुवै ठीक (B) i ठीक तर ii बेठीक  
(C) ii ठीक तर i बेठीक (D) i र ii दुवै बेठीक

## खरिदार/नासु प्रथम पत्र – लोकसेवा साथी

२२. समूह I र समूह II बीच सही जोडा कुन हो?

समूह I

- a) फ्रान्सको राज्य क्रान्ति
- b) भारतीय स्वतन्त्रता संग्राम
- c) अक्टोबर क्रान्ति
- d) अमेरिकी स्वतन्त्रता संग्राम

(A) a-iv, b-i, c-ii, d-iii

(C) a-iii, b-ii, c-i, d-iv

समूह II

- i) सन् 1917
- ii) सन् 1947
- iii) सन् 1789
- iv) सन् 1775

(B) a-i, b-ii, c-iv, d-iii

(D) a-iii, b-i, c-ii, d-iv

२३. आ.व. 2081/82 मा प्रतिव्यक्ति कुल राष्ट्रिय आय कति थियो?

(A) 1397 USD

(C) 1517 USD

(B) 1467 USD

(D) 1538 USD

२४. पाटनको कृष्ण मन्दिर कसको पालामा बनाइएको हो?

(A) योगनरेन्द्र मल्ल

(C) प्रताप मल्ल

(B) जयस्थिति मल्ल

(D) सिद्धिनरसिंह मल्ल

२५. नेपालमा रहेका जाति र ती जातिसँग प्रचलित लोक नाचबीच जोडा

मिलाउँदा तलका मध्ये कुन सही छ/छन्?

मगर - कौरा नाच

लिम्बु - धान नाच

गुरुङ - सोरठी नाच

सही विकल्प छान्नुहोस्।

(A) कुनै पनि मिलेको छैन

(C) दुई मात्र मिलेको छ

(B) एक मात्र मिलेको छ

(D) सबै मिलेका छन्

# खरिदार/नासु प्रथम पत्र – लोकसेवा साथी

२६. निम्न संविधान र ती संविधान संशोधन भएको पटकबीच जोडा मिलाई सही विकल्प छान्नुहोस्।

<u>संविधान</u>	<u>संशोधन भएको पटक</u>
a) नेपालको अन्तरिम शासन विधान, 2007	i) भएन
b) नेपालको संविधान, 2019	ii) 6 पटक
c) नेपाल अधिराज्यको संविधान, 2047	iii) 12 पटक
d) नेपालको अन्तरिम संविधान, 2063	iv) 3 पटक

(A) a-ii, b-iv, c-i, d-iii  
(B) a-i, b-iv, c-ii, d-iii  
(C) a-i, b-iii, c-iv, d-ii  
(D) a-ii, b-iv, c-iii, d-i

२७. विद्यमान नेपालको संविधानको सन्दर्भमा तलका कथनहरू अध्ययन

गरी कुन कुन कथन सही छ/छन्?

- a) यस संविधानमा 35 भाग, 308 धारा र 9 अनुसूचिहरू छन्।  
b) यसमा संघ, प्रदेश र स्थानीय तहको अधिकारको साझा सूचि अनुसूचि-7 मा व्यवस्था गरिएको छ।  
c) यसमा संघ, प्रदेश र स्थानीय तहबीचको सम्बन्ध सहकारिता, सहअस्तित्व र समन्वयको सिद्धान्तमा आधारित छ।  
छान्नुहोस्।

- (A) a र b मात्र  
(B) a र c मात्र  
(C) b र c मात्र  
(D) a, b र c सबै

२८. निम्न कथनहरू अध्ययन गरी सही उत्तर छनौट गर्नुहोस्।

- i) चिनियाँ सरकारले सन् 2013 मा अपनाएको विश्वव्यापी विकास रणनीति Belt and Road Initiative हो।  
ii) MCC संयुक्त राज्य अमेरिकाको एक गैरसरकारी संस्था हो जसले आर्थिक वृद्धिबाट विश्वव्यापी गरिबी घटाउन काम गरिरहेको छ।

# खरिदार/नासु प्रथम पत्र – लोकसेवा साथी

(A) i मात्र ठीक

(B) ii मात्र ठीक

(C) i र ii दुवै ठीक

(D) i र ii दुवै बेठीक

२९. बैज्ञानिक र बैज्ञानिकसँग सम्बन्धित आविष्कारबीच जोडा मिलाई सही विकल्प छान्नुहोस्।

बैज्ञानिक

आविष्कार

a) Humphry Davy

i) Radioactivity

b) Henri Becquerel

ii) Transmission of malarial parasites by mosquitoes

c) Ronald Ross

iii) Safety Lamp

d) Guglielmo Marconi

iv) Radio

(A) a-iii, b-iv, c-i, d-ii

(B) a-i, b-iii, c-iv, d-ii

(C) a-iii, b-i, c-ii, d-iv

(D) a-i, b-iv, c-ii, d-iii

३०. शरीरको संरचना वा बनावटको बारेमा अध्ययन गर्ने शास्त्र तलका मध्ये कुन हो?

(A) Anatomy

(B) Cardiology

(C) Oncology

(D) Mycology

३१. 100 वा सो भन्दा माथिको एक संख्या लिनुहोस्। सो संख्याले 1 लाई भाग गर्नुहोस्। आएको भागफलमा 1 जोड्नुहोस्। आएको योगफलको घातांक शुरुको संख्या प्रयोग गरी हिसाब गर्नुहोस्। अन्तमा कुन संख्या आउँछ?

(A) 1000 भन्दा माथि

(B) 100–1000 बीच

(C) 10–100 बीच

(D) 10 भन्दा कम

३२. दुईभन्दा बढी स्वर वर्ण भएको विकल्प कुन हो?

(A) जमजनपनखअवकषलथउबदमपक्षइयलखय

(B) जमजनपनखअवकषलथचबदमपक्षइयलखय

(C) जमजनपनखअवकषलथउबदमपक्षहयलखय

(D) माथिका सबै

# खरिदार/नासु प्रथम पत्र – लोकसेवा साथी

३३. तीन संख्याको औषत 19 हुन्छ। यी संख्याहरु मध्ये दुई संख्याको औषत 24 हुन्छ भने तेस्रो नम्बर कुन हो?

(A) 8

(B) 9

(C) 10

(D) 11

३४. तल दिइएको मेट्रिक्समा प्रश्नचिन्ह (?) को सट्टामा उपयुक्त विकल्प रोज्नुहोस्।

9	5	57	29
11	12	85	48
8	17	?	57

(A) 66

(B) 48

(C) 24

(D) 20

३५. यदि SALT लाई कुनै कोड भाषामा TMBS लेखिन्छ भने सोही भाषामा SUGAR लाई के लेखिन्छ?

(A) RBHVS

(B) RAGUS

(C) RBVHS

(D) RBFVS

३६. यदि कोड भाषामा COULD लाई BNTKC र MARGIN लाई LZQFHM लेखिएको छ भने त्यही कोडमा MOULDING लाई कसरी लेखिन्छ?

(A) CHMFINTK

(B) LNKTCHMF

(C) LNTKCHMF

(D) NITKHCMF

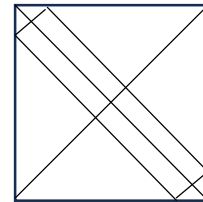
३७. दिइएको चित्रमा त्रिभुजको संख्या कति छ?

(A) 18

(B) 19

(C) 20

(D) माथिका कुनै पनि होइन



## खरिदार/नासु प्रथम पत्र – लोकसेवा साथी

३८. रमेश शिबको भाइ हो। मदन रमेशको बुबा हो। जितेन्द्र प्रियांशुको भाइ हो र प्रियांशु शिबकी छोरी हुन्। अबिरल यी सबैका टाढाको नातेदार हो। अब, जितेन्द्रको काका को हो?

(A) शिब

(B) रमेश

(C) मदन

(D) अबिरल

३९. एकजना मानिस उसको घरबाट दक्षिण-पश्चिमतर्फ हिँड्न थाल्छ। विकल्पमा दिइएका मध्ये कुन अवस्थामा उ घुम्ने हो भने उसलाई उसको घरबाट दक्षिण-पूर्वमा पुग्न सहयोग हुन्छ?

(A) दायाँ-हाततर्फ, दायाँ-हाततर्फ, दायाँ-हाततर्फ

(B) बायाँ-हाततर्फ, बायाँ-हाततर्फ, बायाँ-हाततर्फ

(C) दायाँ-हाततर्फ, बायाँ-हाततर्फ, बायाँ-हाततर्फ

(D) बायाँ-हाततर्फ, बायाँ-हाततर्फ, दायाँ-हाततर्फ

४०. एक व्यक्ति ३ किलोमिटर पूर्वतर्फ दौडियो र देब्रेतर्फ फर्किएर ४ किलोमिटर हिँड्यो भने उ शुरुको स्थानबाट सिधा रेखाको दुरीमा कति किलोमिटर टाढा पुग्यो?

(A) 1 km

(B) 5 km

(C) 7 km

(D) 12 km

४१. IUCN को पूरा रूप के हो?

(A) International Unity for Conservation of Nature

(B) International Unified Commission for Nature

(C) International Union for Conservation of Nature

(D) None of the above

# खरिदार/नासु प्रथम पत्र – लोकसेवा साथी

४२. सन् २०२६ को ३० औं विश्व सिमसार दिवस (World Wetlands Day) को नारा (Slogan) तलका मध्ये कुन हो?

(A) Wetlands and Traditional Knowledge: Celebrating Cultural Heritage

(B) Protecting Wetlands for Our Common Future

(C) Wetlands and Human Wellbeing

(D) It is time for Wetland Restoration

४३. नेपालको चालू आवधिक १६ औं योजनाको अन्त्यसम्ममा निरपेक्ष गरिबी कति प्रतिशतमा झार्ने लक्ष्य लिइएको छ?

(A) १२%

(B) ५%

(C) १८%

(D) ११%

४४. सन् २०२५ को शान्ति तर्फको नोभेल पुरस्कार कसलाई प्रदान गरिएको थियो?

(A) मारिना कोरिना माचाडो

(B) लस्ज्लो क्रास्जनाहोरकाई

(C) जोएल मोकिर

(D) जोन एम. मार्टिनिस

४५. प्रत्येक आमाले आफ्ना बच्चा र बिरुवालाई बराबर ममता प्रदान गर्नुपर्छ" भन्ने नाराका साथ शुरु भएको वातावरण संरक्षण अभियान कुन हो?

(A) Green Belt Movement

(B) Kyoto Protocol

(C) Earth Summit

(D) Chipko Movement

४६. नेपालले संयुक्त राष्ट्रसंघको सदस्यता कहिले प्राप्त गरेको हो?

(A) 1935 Dec 14

(B) 1955 Dec 14

(C) 1975 Dec 14

(D) 1995 Dec 14

# खरिदार/नासु प्रथम पत्र – लोकसेवा साथी

४७. संयुक्त राष्ट्रसंघीय विकास कार्यक्रम (UNDP) ले सार्वजनिक गरेको मानव विकास सूचकाङ्क (HDI) 2025 मा सबैभन्दा माथि रहेको SAARC मुलुक तलका मध्ये कुन हो?

(A) भारत

(B) भुटान

(C) नेपाल

(D) श्रीलङ्का

४८. “जहाँ प्रेम छैन त्यहाँ जीवन छैन” यो भनाइ कसको हो?

(A) महात्मा गान्धी

(B) लक्ष्मीप्रसाद देवकोटा

(C) प्लेटो

(D) बी.पी. कोइराला

४९. सन् 2023 मा भारतले चन्द्रमाको दक्षिणी ध्रुवमा पठाएको अन्तरिक्ष यानको नाम के हो?

(A) चन्द्रयान—2

(B) चन्द्रयान—3

(C) चन्द्रयान—4

(D) चन्द्रयान—5

५०. नेपालले सन् 1967 मा संयुक्त राष्ट्र संघ अन्तर्गत कुन विशेष समितिको उपाध्यक्षमा रही काम गरेको थियो?

(A) लागू पदार्थ नियन्त्रण

(B) रंगभेद उन्मूलन

(C) वातावरण संरक्षण

(D) हिमालय संरक्षण

## ***Answer Key***

1	2	3	4	5	6	7	8	9	10	11	12	13	14	15	16	17	18	19	20
A	D	C	C	C	C	A	C	C	A	A	D	B	B	B	A	B	D	A	D
21	22	23	24	25	26	27	28	29	30	31	32	33	34	35	36	37	38	39	40
B	C	C	D	D	A	B	C	C	A	D	A	B	C	A	C	C	B	A	B
41	42	43	44	45	46	47	48	49	50										
C	A	A	A	A	B	D	A	B	B										

« « समाप्त » »